

DISTRIBUTION OF MARKS
CLASS - 3rd
SUBJECT - MATH

Time : 3 hours **M.M. : 50**

Text Book

Sr. No.	Particulars/Topics	Marks
1.	Short and questions	10
2.	Simple questions on Add, Subtraction, Multiplication and Division	6
3.	Fill up	5
4.	Match the following	5
5.	Choose the right option	4
6.	Complete the pattern	4
7.	Puzzle	2
8.	Statement questions	10
9.	Shapes	4
	Total	50

MODEL TEST PAPER
CLASS - 3rd
SUBJECT - MATH

Time : 3 hours **M.M. : 50**

1. निम्न को हल करो:-

- संख्या नाम लिखो:-
 $769 = \dots\dots\dots$
- अंकों में लिखो:-
नौ सौ उनसठ = $\dots\dots\dots$
- $300 + 70 + 4 = \square$
- पैदान पूरा करो।
200, 190, 180, $\dots\dots$, $\dots\dots$, $\dots\dots$
- $9 \times \square = 63$
- आधा $\left(\frac{1}{2}\right)$ किलोग्राम = $\dots\dots\dots$ ग्राम
- $6 + 6 + 6 + 6 + 6 = \square$
- $65 \div 13 = \square$
- $95 - \square = 65$
- 2 मीटर = $\dots\dots$ सेंटीमीटर

Answer the following:-

1. Write in words.
769 =
 2. Write in figures:-
Nine Hundred Fifty Nine =
 3. $300 + 70 + 4 = \square$
 4. Complete the pattern:-
200, 190, 180,,,
 5. $9 \times \square = 63$
 6. Half $\left(\frac{1}{2}\right)$ kilogram = gram
 7. $6 + 6 + 6 + 6 + 6 = \square$
 8. $65 \div 13 = \square$
 9. $95 - \square = 65$
 10. 2 metre = centimeter.
- 2. हल करो: (Solve it) :-**
- | | | | |
|-------|-----------------|------|--------------|
| (i) | 869 | (ii) | 689 |
| | +789 | | 50 |
| | _____ | | + 6 |
| | _____ | | _____ |
| (iii) | 609 | (iv) | 369 |
| | -278 | | -189 |
| | _____ | | _____ |
| | _____ | | _____ |
| (v) | 365×25 | (vi) | $765 \div 6$ |

6

3. खाली स्थान भरों:-

1. एक वर्ष में दिन होते हैं।
2. 5 लिटर में मिलीलिटर होते हैं।
3. त्रिभुज में भुजाएं होती हैं।
4. दिसम्बर मास में दिन होते हैं।
5. में 366 दिन होते हैं।

Fill in the blanks:-

1. There are days in a year.
2. 5 litres have millilitres.
3. A triangle has sides.
4. The month of December has days.
5. has 366 days in a year.

4. मिलान करो:-

- | | |
|------------------|---------------|
| 1. एक लिटर | 589 |
| 2. एक दर्जन | 7 दिन |
| 3. सप्ताह | 100 पैसे |
| 4. रूपया | 12 वस्तुएँ |
| 5. पाँच सौ नवासी | 1000 मिलीलिटर |

Match the following:-

- | | |
|-----------------|------------------|
| 1. Litre | 589 |
| 2. Dozen | 7 days |
| 3. Week | 100 paisa |
| 4. Rupee | 12 Things |
| 5. Five Hundred | 1000 millilitres |
- Eighty Nine

5

5

5. सही विकल्प चुनो:-

4

1. एक दिन में घण्टे होते हैं।
 (क) 12 (ख) 24
 (ग) 36 (घ) 18
2. 2 किलोग्राम में ग्राम होते हैं।
 (क) 2000 ग्राम (ख) 1000 ग्राम
 (ग) 3000 ग्राम (घ) 200 ग्राम
3. 800 सेंटीमीटर में मीटर होते हैं।
 (क) 4 मीटर (ख) 6 मीटर
 (ग) 8 मीटर (घ) 5 मीटर
4. आयत में भुजाएं होती हैं।
 (क) 3 (ख) 4
 (ग) 6 (घ) 8

Choose the correct options:-

1. How many hours are there in a day?
 (a) 12 (b) 24
 (c) 36 (d) 18
2. How many grams are there in 2 kilograms.
 (a) 2000 gram (b) 1000 gram
 (c) 3000 gram (d) 200 gram
3. How many meters are there in 800 centimeters.
 (a) 4 meters (b) 6 meters
 (c) 8 meters (d) 5 meters



4. A rectangle has sides.

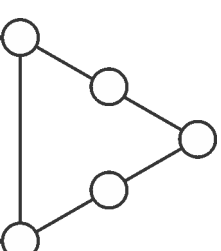
- (a) 3 (b) 4
 (c) 6 (d) 8

6. पैटर्न पूरा करो:-

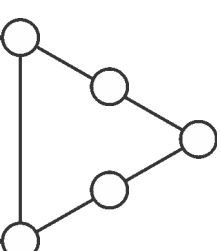
4

Complete the pattern:-

- (a) 
- (b) 
- (c) 25, 35, 45,
- (d) 105, 205, 305,
7. 1, 2, 3, 4, 5, 6 की संख्या को गोलों में इस तरह लिखो कि हर लाइन में लिखी संख्याओं का जोड़ 12 आए। 2



Write the numbers 1, 2, 3, 4, 5, 6 in the circles so that the sum of the numbers on each side of the figure is 12.



8. एक कारखाने में पहला दिन 270 बल्ब बने। दूसरे दिन 123 बल्ब बने। कारखाने में कुल मिलाकर कितने बल्ब बने? 2

A factory made 270 bulbs on the first day. On the second day it made 123 bulbs. How many bulbs did the factory make altogether?

9. एक बक्से में 6 सेब हैं। 7 बक्सों में कुल मिलाकर कितने सेब हो जाएंगे?

A box contains 6 apples. How many apples in all will 7 boxes have?

10. तुम्हें 329 गुब्बारों को 7 लड़कों में बाँटना है। हर लड़के को कितने गुब्बारे मिलेंगे।

Share 329 balloons among 7 boys. How many balloons for each boy?

11. दी गई सारणी को ध्यान से पढ़ें व निम्न प्रश्नों के उत्तर दें।

कक्षा	बच्चों की संख्या	उपस्थित बच्चे	अनुपस्थित बच्चे
I	27	25	2
II	23	22	1
III	24	21	3
IV	22	18	4
V	25	23	2
कुल			

(क) इस स्कूल में कुल कितने बच्चे हैं? 4

(ख) किस कक्षा में अनुपस्थित बच्चों की संख्या सबसे ज्यादा है?

(ग) किस कक्षा में अनुपस्थित बच्चों की संख्या सबसे कम है?

(घ) इस स्कूल में कुल कितने बच्चे उपस्थित हैं?

Read the table carefully and answer the following questions:-

Class	No. of Children	No. of Children	No. of Children
I	27	25	2
II	23	22	1
III	24	21	3
IV	22	18	4
V	25	23	2
Total			

(a) How many children are there in the school?

(b) The class with the highest number of absent students is

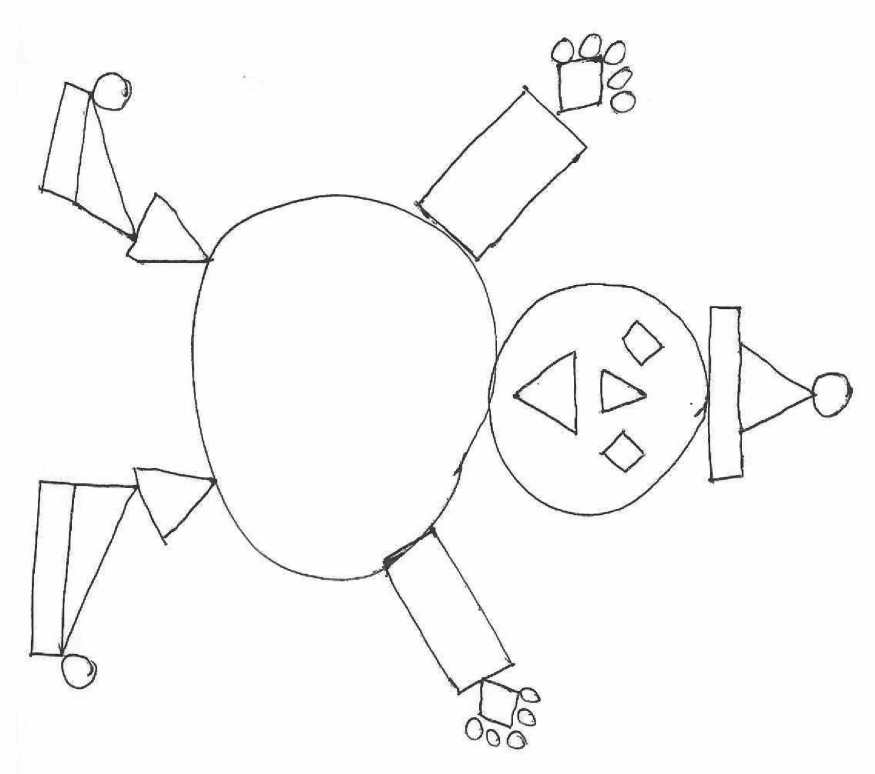
(c) The class with the least number of absent students is

(d) How many children are present in this school?

12. जैसा कि नीचे दिखाया गया है उसके हिसाब से जोकर में रंग भरो: 4



Colour the clown following the directions given below.



DISTRIBUTION OF MARKS

CLASS - 3rd

SUBJECT - E.V.S.

Time : 3 hours

M.M. : 50

Text Book

Sr. No.	Question Type	Marks
1.	Choose the correct option	2.5
2.	True and False	2.5
3.	Fill in the blanks	5
4.	Match the following	5
5.	Find the odd one out	5
6.	Question and answer	10
7.	Fill the table	4
8.	Find and circle	4
9.	Long answer question	9
10.	Activity Based question	3
Total		50

MODEL TEST PAPER

CLASS - 3rd

SUBJECT - E.V.S.

Time : 3 hours

M.M. : 50

1. सही विकल्प चुनें:-

- निम्न में से कौन सा जानवर नहीं है।
(क) हाथी (ख) घोड़ा
(ग) मोर (घ) शेर
- इनमें से कौन सा यातायात का साधन नहीं है।
(क) बस (ख) कम्प्यूटर
(ग) ट्रेन (घ) हवाई जहाज
- जो अस्पताल में कार्य करता है।
(क) डाकिया (ख) अध्यापक
(ग) डॉक्टर (घ) पुलिस
- निम्न में से कौन सा पौधे का भाग नहीं है।
(क) फूल (ख) तना
(ग) सीड़ी (घ) जड़
- इनमें से कौन सा अनाज है।
(क) कुर्सी (ख) पानी
(ग) गेहूँ (घ) सेब

Choose the correct option:-

1. Which is not an animal.
(a) Elephant (b) Horse
(c) Peacock (d) Lion
 2. Which is not a means of transportation.
(a) Bus (b) Computer
(c) Train (d) Aeroplane
 3. Who works in a hospital.
(a) Postman (b) Teacher
(c) Doctor (d) Police
 4. Which is not a part of a plant.
(a) Flower (b) Stem
(c) Ladder (d) Root
 5. Which is a grain.
(a) Chair (b) Water
(c) Wheat (d) Apple
2. सही और गलत:-
1. जानवर अलग-अलग जगह रहते हैं।
 2. टॉयलेट जाने के बाद अच्छी तरह हाथ न धोएँ।
 3. पेड़-पौधों को पानी बारिश से मिलता है।
 4. लुई ब्रेल अमेरिका देश का रहने वाला था।
 5. फोन भी अलग-अलग तरह के होते हैं।

True and False:-

1. Animal live in different places.
2. Do not wash your hand thoroughly after the use of toilet.
3. Plants get water from rain.
4. Louis Braille belonged to America.
5. Telephones are of different types.

3. रिक्त स्थान भरों:-

1. सीताम्मा एक छोटे शहर में पुराने मकान में रहती है।
2. माधो के बजू गाँव में रहता है।
3. ब्रेल लिपि बिंदुओं पर आधारित होती है।
4. अप्पू हाथी को बहुत पंसद है।
5. पक्षियों के अलग-अलग रंगों व डिजाइन के होते हैं।

Fill in the blanks:-

1. Sitamma lives in her ancestral house in a small city
2. Madho lives in Bajju-a small village in
3. Braille script is based on points.
4. Appu likes very much.
5. of birds are of different colours, shape and sizes.

4. मिलान करें:-

- | | |
|-------------|--------|
| 1. पत्र | बारल |
| 2. जानवर | डाकघर |
| 3. पक्षी | घास |
| 4. मधुमक्खी | घोंसला |
| 5. बारिश | शाहद |

Match the followings:-

- | | |
|-----------|-------------|
| 1. Letter | Cloud |
| 2. Animal | Post Office |
| 3. Bird | Grass |
| 4. Bee | Nest |
| 5. Rain | Honey |

5. इनमें से जो अलग है उस पर लगाओ:-

1. नदी, पहाड़, तालाब, नल, सोता।
2. नहाना, कपड़े धोना, तैरना, कंघी करना।
3. मछली, बतख, बंदर, मगरमच्छ।
4. कार, नाव, बस, रेलगाड़ी।
5. चावल, मक्की, गेहूँ, अंगूर।

In every row put a around one that is different from the others.

1. River, mountain, lake, Tap, spring.
2. Bathing, washing clothes, swimming, combing hair.

3. Fish, duck, monkey, crocodile.
4. Car, boat, bus, train.
5. Rice, CORN, wheat, grapes.

6. निम्नलिखित प्रश्नों के उत्तर दो:- (कोई पाँच)

1. क्या तुम अपने घर को साफ रखते हो? कैसे?
2. लोगों को इशारों में बात करने की जरूरत कब पड़ती है?
3. अगर तुम भी पक्षियों की तरह उड़ सकते, तो तुम कहाँ-कहाँ जाते?
4. बर्तन किन-किन चीजों के बने होते हैं?
5. दीपाली अपने घर के क्या-क्या काम करती है?
6. तुम्हारा घर किन-किन चीजों से बना है?
7. तुम्हें चिट्ठी लिखना या फोन करना दोनों में से क्या ज्यादा अच्छा लगता है? क्यों?

Answer the following questions:- (any five)

1. Do you keep your house clean? How?
2. When do people need to talk through actions?
3. If you could fly like a bird where would you like to go?
4. What are utensils made of?
5. What work does Deepali do in her own house?
6. Write the names of things which your house is made of?

7. Which of the two do you like more-writing a letter or making a phone call? Why?

7. तालिका में जानवरों के नाम लिखो:-

ऐसे जानवर जिन्हें तुमने ऐसे जानवर जिन्हें तुम छू

छुआ है नहीं सकते

.....
.....
.....
.....
.....

Write the names of the animals:-

You have Touched You can't touch

.....
.....
.....
.....
.....

8. नीचे कुछ खाने-पीने की चीजों के नाम लिखें हैं। जो चीजे हम पेड़-पौधे से लेते हैं, उन पर हरे रंग से लगाओ। जो चीजे हमें जानवरों से मिलती हैं, उन पर लाल रंग से लगाओ।

शहद	हल्दी	मछली	मकका
दूध	नींबू	पालक	आलू
अजवाइन	अंडा	मांस	केला
टमाटर	प्याज		

The names of some food items are given below. Draw a green around those items that we get from plants. Draw red around those items that we get from animals.

Honey	Turmeric	Fish	Corn
Milk	Lemon	Spinach	Potato
Ajwain	Egg	Meat	Banana
Tomato	Onion		


9. आपने बहुत सारे जानवर देखे होंगे। उनमें से कौन-कौन से जानवर:-

उड़ते हैं
रेगते हैं
फुदकते हैं

You must have seen many animals too. Write which of them.

Can fly
Can crawl
Can hop

10. तुम गेंद से खेल जाने वाले कितने खेल जानते हो? उनके नाम लिखो।

How many games do you know which  with a ball? Write their names.

11. उन तीन चीजों के नाम लिखो जो तुम्हें खाने में पसन्द हैं, और तीन चीजों जो तुम्हें नापसन्द हैं।

पसन्द

नापसन्द

Write the names of three food items you like to eat and three that you dislike.

Like

Dislike

12. पत्र पेड्टी का चित्र बनाओ व रंग भरो।

Draw a picture of Letter Box.

DISTRIBUTION OF MARKS
CLASS - 3rd
SUBJECT - HINDI

Time : 3 hours

M.M. : 50

अंको का विवरण (क)

क्र. सं.	विषय (पाठ्य पुस्तक में से)	अंक
1.	गद्यांश	4
2.	(कविता) पंक्तियों को पूरा करो	2
3.	प्रश्नों के उत्तर	10
4.	रिक्त स्थान भरो	2.5
5.	मिलान करो	2.5
6.	सही या गलत	5
7.	गातिविधि आधारित प्रश्न	2
8.	पढ़ो, समझो और लिखो	2
		30
	व्याकरण में से (ख)	
9.	वचन बदलो लिंग बदलो विलोम शब्द पर्यायवाची शब्द शुद्ध करके लिखो संज्ञा शब्द प्रार्थना पत्र निबन्ध	2 2 2 2 2 2 4 4
	कुल (क+ख)	50

MODEL TEST PAPER
CLASS - 3rd
SUBJECT - HINDI

Time : 3 hours

M.M. : 50

1. निम्नलिखित गद्यांश को पढ़कर प्रश्नों के उत्तर दो:-

मीरा बहन का जन्म इंग्लैंड में हुआ था। गांधी जी के विचारों का उन पर इतना असर हुआ कि वे अपना घर और अपने माता-पिता को छोड़कर भारत आ गईं और गांधी जी के साथ काम करने लगीं। आजादी के पाँच साल बाद उन्होंने उत्तर प्रदेश के एक पहाड़ी गाँव, गेंवली में गोपाल आश्रम की स्थापना की।

1. मीरा बहन का जन्म कहाँ हुआ?
2. मीरा बहन ने गोपाल आश्रम की स्थापना कहाँ की?
3. रिक्त स्थान भरो:-

..... के विचारों का उन पर इतना हुआ कि वे अपना घर और अपने माता-पिता को छोड़कर भारत आ गईं।

4. विलोम शब्द लिखो:-

आजादी
जन्म

4X1=4

2. निम्न पंक्तियों को पूरा करो:-

मन करता है सूरज बनकर
.....
मन करता है चंद्रा बनकर
.....

2

3. निम्नलिखित प्रश्नों के उत्तर दो:- (कोई पाँच) 5X2=10

1. बूढ़ी अम्मा चाँद पर क्यों चढ़ गई होंगी?
2. बेल की जान कैसे बच गई?
3. तुम्हें किन-किन चीजों के पकने की महक अच्छी लगती है?
4. नाना मुझे झाड़-पूँक वाले आदमी के पास क्यों ले गए?
5. तीनों भाई किस मौसम में घर की तलाश में निकले?
6. गुरु जी शैली में क्या लिए जा रहे थे?
7. शेखीबाज मकखी कहानी में कौन सबसे अच्छा लगा? क्यों?

4. रिक्त स्थान भरो:- 5X5=25

डरता-डरता, बबूला, मुसलाधार, टुकड़ा, रंगाई

1. शेर भगाहो उठा।
2. किसान शेर के पास गया।
3. एक दिन बारिश हुई।
4. अब यह भारी निकला।
5. सब लोग उसकी की प्रशंसा करने लगे।

5. सही मिलान करो:- 5X5=25

- | | |
|------------|-------|
| 1. गेहूँ | तारीक |
| 2. गाय | जंगल |
| 3. शेर | आता |
| 4. बारिश | दूध |
| 5. प्रशंसा | पानी |

6. सही के सामने (✓) का चिन्ह व गलत के सामने (X) का चिन्ह लगाएँ:-

1. तीनों भाई पीपल के पेड़ के नीचे आराम करने लगे।
2. काबुली वाले को 25 पैसे की मिर्च चाहिए थी।
3. साँप झाड़ी में गायब हो गया।
4. बूढ़ी अम्मा सूरज पर चढ़ गई।
5. शोबी ने बाघ का कान पकड़ा और उसे खींचता हुआ घर की तरफ चल दिया।

5X1=5

7. क) वचन बदलो:- 2

मकखी, चिड़िया, झील, चुहा।

ख) लिंग बदलो:- 2

शेर, माता, अध्यापक, कुत्ता।

ग) विलोम शब्द लिखो:- 2

पहाड़, ऊपर, आकाश, आरम्भ।

घ) पर्यायवाची शब्द लिखो:- 2

बादल आकाश

ङ) संज्ञा शब्दों पर गोला लगाओ:- 2

मुकेश आज शिमला से धर्मशाला आ रहा है।

च) शब्दों को शुद्ध करके लिखो:- 2

चक्क नमसते

8. पढ़ो, समझो और लिखो:-

बाघ, गाय और हिरण जानवर हैं। नीचे लिखी हुई चीजें क्या हैं?
लिखो।

1. अगारतला, रायपुर, वडोदरा
 2. जलेबी, लड्डू, पेड़ा
 3. नर्मदा, कावेरी, सतलुज
 4. गेहूँ, चावल, मक्का 5x5=25
9. अपने मुख्याध्यापक जी को जरूरी काम के लिए एक दिन का
अवकाश लेने हेतु प्रार्थना पत्र लिखो। 4
10. किसी एक पर निबन्ध लिखो:- 4
- क) गांव का मेला
ख) मेरा प्रिय मित्र
11. बिल्ली का मखौटा बनाओ व रंग भरें। 2

DISTRIBUTION OF MARKS

CLASS - 3rd

SUBJECT - ENGLISH

Time : 3 hours

M.M. : 50

अंको का विवरण (क)

Sr. No.	Question Type	Marks
1.	Passage	4
2.	Stanza	2
3.	Question answer	4
4.	Choose the right option	2
5.	Fill in the blanks	4
6.	True and False	3
7.	Missing Letters	2
8.	Jumbled Letters	2
9.	Full Forms	2
10.	Rhyming words	2
11.	Match the following	4
12.	Activity (Colour maze)	3
13.	Opposite	3
14.	Change the number	2
15.	Change the gender	2
16.	Application	5
17.	Essay	4
	Total	50

MODEL TEST PAPER

CLASS - 3rd

SUBJECT - ENGLISH

Time : 3 hours

M.M. : 50

1. Read the passage carefully and answer the following questions.

There was a mother tiger and her small tiger cub. They lived near a river in a shady jungle. When the sky was dark, the mother tiger hunted for deer and pig. The tiger cub stayed close by his mother's side.

1. Where did the mother tiger and her small tiger cub live?
2. What did the mother tiger hunt when the sky was dark?

3. **Write opposite of given words:-**
Dark, Small

4. **Fill in the blank:-**
The tiger cub stayed by his mother's side. 4

2. Read the stanza carefully and answer the following questions. 2

Over the mountains,
Over the Plains,

Over the rivers,

Here come the trains.

1. Where do the trains run

2. **Change the number:-**

Mountain

River

3. **Answer the following questions:- (any four) 4**

1. What does the child want to do?

2. Why was Nina worried?

3. Who ate the enormous turnip?

4. How old is the speaker?

5. When does the baby laugh?

6. What is the vegetable man selling?

4. **Choose the right answer:- 2**

1. Name the ship of the Desert.

(a) lion (b) crab

(c) camel (d) tiger

2. Name the king of the Forest.

(a) Monkey (b) Owl

(c) Lion (d) Crocodile

3. How old was meena?

(a) Ten (b) Twelve

(c) Nine (d) Eight

4. What went up the hill?

(a) a path (b) a street

(c) a road (d) a rail line

5. **Fill in the blanks with suitable words:- 4**

1. Bruno is my (pet, dish)

2. He breaks his (dish, fish)

3. Play with (me, grey)

4. Mahesh is (singing, saying) a song.

6. **True and False:- 3**

1. A dog say, "Moo-Moo".

2. A yellow butterfly flew around in Sonu's garden.

3. Meena was Ten years old.

4. Camel is the ship of the desert.

5. Nina's aunt was getting married.

6. Baby wants to catch the sun.

7. **Match the followings:- 3**

1. downward weak

2. slowly night

3. little upward

4. slender fast

5. mighty fat

6. day big

8. Fill the missing letters and complete the words.

P.....opl....., Lit.....le, Tr....., J.....Y 2

9. Write the jumbled letters in correct order:- 2

llaboons , crat.....

10. Write the full form of given words:- 2

Don't Can't

I'll Isn't

11. Write the rhyming words:- 2

Took

Sand

12. Match the words in Column A with those in

Column B:- 4

Column A Column B

Lions Swing

Flies Walk

Monkeys Hop

Birds Crawl

13. (a) Change the Numbers:- 2

Monkey, balloon, Book, Bush.

(b) Change the Gender:- 2

Cow, Tiger, Horse, Peacock.

14. Write an application to your Headmaster for one day leave. 5

15. Write an essay on given topic:- 4

(a) My Best Friend

(b) My School

16. How many colours can you find in this maze? 3